

# Математика

**В**

**ПОДГОТОВИТЕЛЬНОЙ  
группе.**


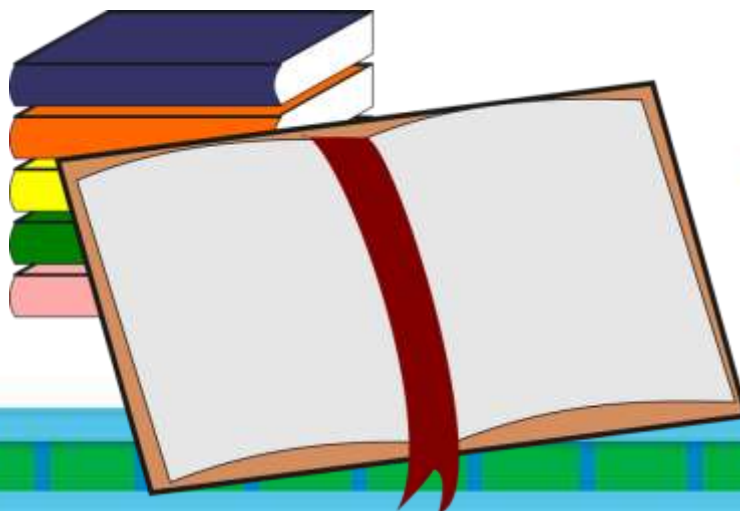



Выполнила: Павлова Р.Р.



# Устный счет

*Посчитай от 1 до 10.*

*Посчитай от 10 до 1.*



$$a + 1$$
$$2 \times 2 = 4$$

## Столько же. Больше. Меньше

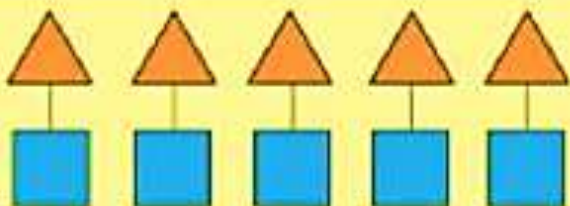
Будем учиться отвечать на вопросы «Больше?»,  
«Меньше?», «Столько же?».



Рассмотри рисунок. Рассуждай:  
*Домиков столько же, сколько ... .*  
*Поросят столько же, ... .*



**Рассмотри картинки и составь предложения используя слова: столько же, меньше, больше.**



столько же



меньше



больше



# Рассмотри рисунки матрешек.

1. Сделай вывод: больше?  
меньше? столько же?
2. Объясни, как составлены  
пары. Используй слова:  
слева, справа, вверху,  
внизу.



**Рассмотри  
рисунок.**

О чем можно  
сказать: столько  
же? Больше?  
Меньше?

**Объясни почему.**



Чего больше: чашек  
или блюдец?

Ложек или блюдец?

Чего меньше: чашек  
или ложек?

**Объясни свой ответ.**

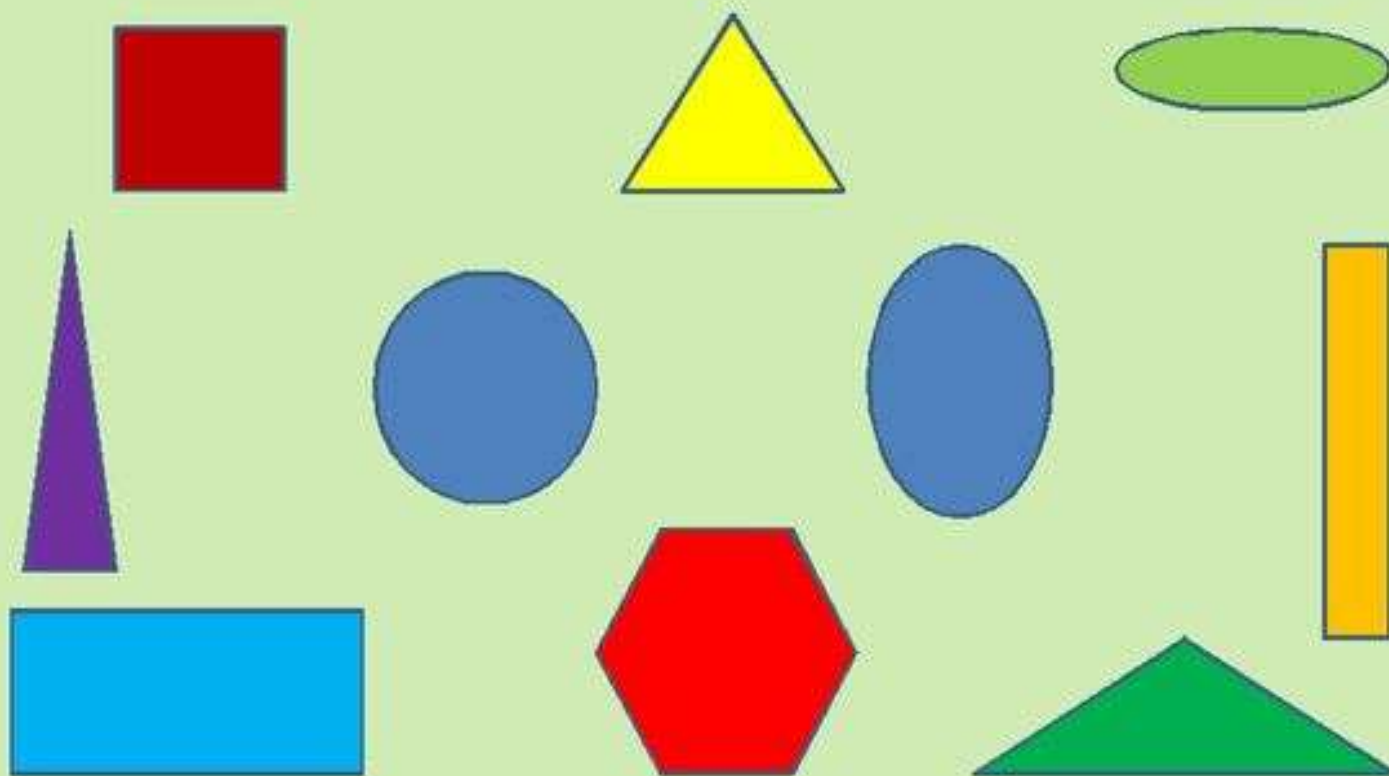


Буратино  
потянулся,  
Раз нагнулся,  
Два нагнулся,  
Три нагнулся.  
Руки в стороны  
развёл,  
Ключик видно не  
нашёл.  
Чтобы ключик  
тот достать,  
Нужно на  
носочки встать







- НАЗОВИ ГЕОМЕТРИЧЕСКИЕ ФИГУРЫ
- КАКИЕ ФИГУРЫ ОТНОСЯТСЯ К МНОГОУГОЛЬНИКАМ? СКОЛЬКО ЗДЕСЬ МНОГОУГОЛЬНИКОВ?
- ЧЕМ ОТЛИЧАЮТСЯ КРУГ И ОВАЛ? ЧЕМ ОНИ ПОХОЖИ?




- КАКАЯ ФИГУРА РАСПОЛОЖЕНА В ЦЕНТРЕ?
- ГДЕ НАХОДИТСЯ ТРЕУГОЛЬНИК?
- В ЛЕВОМ ВЕРХНЕМ УГЛУ НАХОДИТСЯ ...
- ПЯТИУГОЛЬНИК РАСПОЛОЖЕН В ...
- КАКОЙ ПРЯМОУГОЛЬНИК НАХОДИТСЯ ВНИЗУ?




Нарисуй в тетради красные  
квадраты так, чтобы их было на  
один больше, чем груш












**Нарисуй в тетради столько же  
зеленых треугольников, сколько  
грибов**



**Нарисуй в тетради синих кругов  
на один меньше, чем лимонов**



• Заполни таблицу

|   |  |  |  |  |  |
|---|---|---|---|---|---|
|  |   |   |   |   |   |
|  |   |   |   |   |   |
|  |   |   |   |   |   |
|  |   |   |   |   |   |

